

1. Tarih; çevremizi saran ve bizi meşgul eden günümüz kaygı, sıkıntı ve sorunları adına geçmiş zamanın sorgulanmasından başka bir şey değildir.

Fernand Braudel

Bu tanıma göre tarih biliminin;

- I. geçmiş,
II. bugün,
III. gelecek

zaman dilimlerinden hangilerini kapsadığı savunulabilir?

- A) Yalnız I B) Yalnız II C) I ve II
D) II ve III E) I, II ve III

2. Tarihi olayların, doğru ve güvenilir bir şekilde değerlendirilmesi ve sonuca ulaşılabilmesi için yapılan araştırma planına yöntem denir. Tarih bilimi de kendine özgü bilimsel özellikleri ve yöntemleri olan bir bilimdir.

Buna göre tarih biliminin, araştırmalarında aşağıdaki yöntemlerden hangisini kullandığı söylenemez?

- A) Kaynak araştırması yapmak
B) Yer ve zaman tespit etmek
C) Nesnel davranmak
D) Neden-sonuç bağlantısı kurmak
E) Olayları yerinde gözlemlemek

3. Başkomutan Enver Paşa, Güney Kafkasya ve Kuzey İran'a girip Rusları abluka altına almak için 150.000 kişilik bir kuvvetle taarruza geçmiştir. Bu taarruz 19 Ocak 1915'e kadar devam etmişse de yüksek dağların aşılammaması, soğuk, açlık ve tifüs gibi hastalıkların ortaya çıkması sebebiyle Türk kuvvetleri 90.000 kayıp vermiştir.

Buna göre yüksek dağların aşılammaması ve iklim koşulları gibi durumlardan hareketle tarihi olayların değerlendirilmesinde aşağıdaki unsurlardan hangisinin önemine vurgu yapıldığı söylenebilir?

- A) Coğrafya B) Olgu C) Belge
D) Neden-Sonuç E) İnsan ilişkileri

4. Bir tarihçi herhangi bir tarihi olayı incelerken olayın yaşandığı zamanın koşullarını gözönünde bulundurmalıdır ve olayı yaşandığı zamanın koşullarına göre değerlendirmelidir. Çünkü uzun yıllar önce yaşanmış bir olayın bugünün bakış açısı ve değer yargılarıyla ele alınması doğru değildir.

Bu bilgilerde tarihinin düştüğü hatalardan hangisine vurgu yapıldığı söylenebilir?

- A) Objektif olma
B) Kaynak eksikliği
C) Zaman yanılgısı
D) Bağlantı kurma zorunluluğu
E) İnançlara bağlılık

- 5.



Yukarıda Türklerin oluşturduğu 12 hayvanlı Türk takvimi ile ilgili bir görsel verilmiştir.

Bu görselden hareketle,

- I. Türkler astronomi alanında çalışmalar yapmıştır.
II. Hayvancılık Türklerin geçim kaynakları arasında yer almıştır.
III. Türkler zamanla göçebelikten yerleşik hayata geçmiştir.

yorumlarından hangileri yapılabilir?

- A) Yalnız I B) Yalnız II C) Yalnız III
D) I ve II E) II ve III

6. Bu yılda yağmurlar çok yağar ve nimetler bollaşır. İnsanlar iyilik ve hayra eğilimli olurlar. Bu yılda gerçi fitne ve karışıklık çıkarsa da çabukça sükûn ve asayiş yerine gelir. Bu yılın ilk yarısında doğanlar güzel yüzlü, rızık bol; ortasında doğanlar, vefasız, sonunda doğanlar ise cahil olur.

Bu metindeki bilgilere ulaşmak için tarih biliminin aşağıdaki yardımcı bilimlerden hangisi ile yakın ilişki içerisinde olması beklenir?

- A) Etnografya B) Filoloji C) Epigrafya
D) Arkeoloji E) Nümismatik

7. "Tarih, bir olayın sadece filan tarihte olduğunu bilmek değil, geçmişte meydana gelen olayları değerlendirmek ve bu olaylardan ders almaktır."

Ahmet Cevdet Paşa

Bu tanımdan;

- I. geçmişteki olaylardan ders alınması gerektiği,
- II. tarihî olayların günümüz değer yargılarına göre değerlendirilmesi gerektiği,
- III. milliyetçi tarih anlayışının öne çıkarılması gerektiği

çıkarımlarından hangilerine ulaşılabilir?

- A) Yalnız I B) Yalnız II C) I ve II
D) II ve III E) I, II ve III

8. "Tarih, hakikatte meydana gelmiş olaylarla ilgilidir. Gerçeğin ne olduğu belgelerde saklıdır ve gerçek ancak belgelerin eleştirisiyle ortaya çıkar. Belge yoksa tarih de yoktur."

Leopold von Ranke

Ranke'nin bu sözündeki altı çizili kelimedenden hareketle gerçeğin ortaya çıkarılması durumu aşağıdaki tarihe yardımcı bilimlerden hangisinin gerekliliğine dayandırılmıştır?

- A) Nüsmatik B) Arkeoloji
C) Coğrafya D) Felsefe
E) Etnografya

9. Ali Öğretmen öğrencileri ile şu bilgileri paylaşmıştır: "Hafızasını ve kimliğini kaybeden milletlerin varlığını devam ettirmesi beklenemez."

Buna göre Ali Öğretmen'in aşağıdakilerden hangisine vurgu yaptığı söylenebilir?

- A) Tarih öğrenmenin önemine
B) Ordunun geliştirilmesine
C) Kültürel çalışmaların engellenmesine
D) Ekonomik faaliyetlerin çeşitlendirilmesine
E) Uluslararası ittifakların kurulmasına

10. "Türk milletinin tarihi, şimdiye kadar sanıldığı gibi yalnız Osmanlı tarihinden ibaret değildir. Türk'ün tarihi çok daha eskidir. Büyük devletler kuran ecdadımız büyük ve şümüllü medeniyetlere de sahip olmuştur. Bunu aramak, tetkik etmek, Türklüğe ve cihana bildirmek bizler için bir borçtur."

Mustafa Kemal'in bu sözünün aşağıdakilerden hangisiyle ilgili olduğu söylenebilir?

- A) Tarih öğreniminin gerekliliği
B) Millî egemenliğe sahip çıkılması
C) Saltanatın kaldırılması
D) Farklı özelliklere sahip anayasaların oluşturulması
E) Bağımsızlık mücadelesinin zorluğu

11. Millî birlik ve beraberliği güçlendirmek isteyen devletlerin tarih öğrenimine önem vermeleri gerekir.

Bu durum aşağıdaki kavramlardan hangisiyle ilişkilendirilebilir?

- A) Sözlü kültür
B) Politika
C) Ulusal irade
D) Çok seslilik
E) Dayanışma

12. Bir millete mensup olan herhangi bir bireyin elde edeceği geçmiş bilgisi onun sorumluluk ve vatandaşlık duygusunu geliştirir.

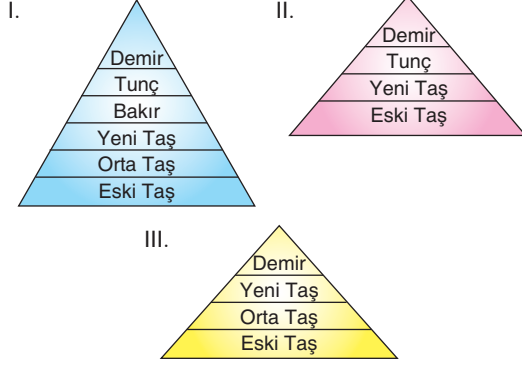
Düşüncelerini bu şekilde dile getiren bir araştırmacının aşağıdakilerden hangisine değer verdiği söylenebilir?

- A) Tarih bilgisinin elde edilmesine
B) Pozitif bilimlerin geliştirilmesine
C) Halkın refah seviyesinin yükseltilmesine
D) Eğitim-öğretimin birleştirilmesinin faydalarına
E) Her durumda ulusal çıkarların korunmasına

İlk Çağ'da Başlıca Medeniyet Havzaları

1. Tarih öncesi çağlar her bölgede aynı zaman dilimi içerisinde yaşanmamıştır. Savaşlar, göçler ve ticaret toplumları etkilemiş bu durum tarih öncesi çağların sırasıyla yaşanmamasına neden olmuştur.

Buna göre;



yerleşim yerlerinden hangileri herhangi bir etkileşime girmeyerek kendine özgü gelişmiştir?

- A) Yalnız I B) Yalnız II C) Yalnız III
D) I ve II E) I ve III

2.



İlk Çağ'da Mezopotamya ve Mısır Medeniyeti

Haritada Mezopotamya'nın kuzeyi "Yukarı Mezopotamya", güneyi ise "Aşağı Mezopotamya"; Mısır'ın kuzeyi "Aşağı Mısır" güneyi ise "Yukarı Mısır" olarak adlandırılır.

Mezopotamya ve Mısır'da yerleşim yerlerinin bu şekilde adlandırılmasında etkili olan temel unsur aşağıdakilerden hangisidir?

- A) Ekonomik uğraşlar B) Enlem farkı
C) Nehirlerin akış yönü D) Tarihi gelenekler
E) Dinsel inançlar

3. Sümerlerde, tüm ekonomik uğraşlar topluca yapılmaktaydı. Elde edilen ürünler tapınaklarda toplanmaktaydı. Tapınaktaki görevliler gelen malları saymak ve kayıt altına almak zorundaydı.

Buna göre malları sayma ve kayıt altına alma işleminin;

- I. ay takvimi,
II. çivi yazısı,
III. kum saati

icatlarından hangilerine zemin oluşturduğu söylenebilir?

- A) Yalnız I B) Yalnız II C) Yalnız III
D) I ve II E) II ve III

4. Sözlü kültür örnekleri, toplumsal hafızanın kuşaktan kuşağa aktarılmasında ve korunmasında önemli bir işleve sahiptir.

Buna göre aşağıdakilerden hangisi sözlü kültür öğeleri arasında yer almaz?

- A) Sav B) Destan
C) Efsane D) Kitabe
E) Mit

5. Anadolu'da Alişar kültür bölgesinde yapılan kazılar sonucunda elde edilen buluntular şunlardır:

- Çömlekler
- Kerpiç evler
- Oraklar
- Altın ve gümüş süs eşyaları

Buna göre Alişar kültür bölgesi ile ilgili olarak aşağıdaki yargılardan hangisine ulaşamaz?

- A) Sanatsal uğraşlarda bulunduğu
B) Madenlerin işlendiği
C) Yerleşik yaşama geçildiği
D) Tarımsal faaliyetlerin görüldüğü
E) Monarşik yönetim biçiminin benimsendiği

6. Tarih öncesi dönem insanları sözlü geleneklerini şekillendirirken çevrelerinde olup biten ve kendilerini etkileyen olay ve unsurlara da yer vermişlerdir.

Bu durumun aşağıdakilerden hangisine katkı sağlaması beklenir?

- A) Devletler arası savaşların yaşanmasına
B) Tek tanrılı din anlayışının ortaya çıkmasına
C) Tarihî devirlerin dönemlere ayrılmasına
D) Yerleşik yaşamın benimsenmesine
E) Tarihî olaylarla ilgili bilgilerin artmasına

7. Tarihin çeşitli dönemlerinde toplumlar arası kültürel etkileşimin yaşandığı görülmüştür.

Buna göre toplumlar arasında etkileşimlerin yaşanmasında;

- I. savaş,
II. ticaret,
III. göç

unsurlarından hangilerinin etkili olduğu söylenebilir?

- A) Yalnız II B) Yalnız III C) I ve III
D) II ve III E) I, II ve III

8. Çin uygarlığının dünya kültür mirasına katkılarından bazıları şunlardır:

- Pusula
- Barut
- Kâğıt
- Matbaa
- Mürekkep

Bu buluşlardan hangilerinin kültürel alanla ilgili olduğu söylenebilir?

- A) Pusula – kâğıt
B) Barut – mürekkep – kâğıt
C) Pusula – mürekkep
D) Kâğıt – mürekkep – matbaa
E) Matbaa – pusula

9. Persler, uzun bir dönem Anadolu'da hâkimiyet kurmuş olmalarına rağmen Anadolu uygarlıklarını etkilememişlerdir. Aksine Persler, Anadolu uygarlıklarından etkilenmişlerdir.

Bu parçadan aşağıdaki çıkarımlardan hangisine ulaşılamaz?

- A) Perslerin yayılcı bir anlayışla hareket ettiği
B) Perslerin hâkimiyet sahalarını genişlettiği
C) Perslerin farklı kültürlerle etkileşime geçtiği
D) Anadolu'da, Pers kültüründen daha üstün bir kültürün olduğu
E) Perslerin, ulusal bir anlayışa sahip olduğu

10. Anadolu uygarlıklarından İonyalılar, şehir devletleri hâlinde örgütlenmiştir. İonya şehir devletleri önceleri krallıkla yönetilmiş, ardından da bu şehir devletlerinde oligarşik bir yönetim anlayışı hâkim olmuştur.

Bu parçada İonyalılarla ilgili;

- I. siyaset,
II. askerlik,
III. sanat

alanlarından hangileriyle ilgili bilgi verilmiştir?

- A) Yalnız I B) Yalnız II C) Yalnız III
D) I ve II E) I ve III

11. Sümerler,

- Zigguratların en üst katını rasathane olarak kullanmışlardır.
- Ay'ı 30, yılı da 360 güne bölmüşlerdir.

Buna göre Sümerlerin aşağıdaki alanlardan hangisinde geliştikleri söylenebilir?

- A) Tarım B) Adalet
C) Astronomi D) Askerlik
E) Siyaset

12. Babil uygarlığı, Mezopotamya uygarlıklarından biri olan Sümerlerin oluşturduğu kanunları bir araya getirmiş ve Hammurabi Kanunları'nı oluşturmuşlardır.

Bu parçada Babil uygarlığının aşağıdaki alanlardan hangisiyle ilgili çalışmalarına değinilmiştir?

- A) Astronomi B) Tarım
C) Ticaret D) Hukuk
E) Edebiyat

1. İlk Çağ toplumlarında dinsel inançlar toplumu siyasi, kültürel ve ekonomik yönlerden etkilemiş ve itici güç görevi görmüştür.

Buna göre aşağıdakilerden hangisinde dinin ekonomik hayat üzerindeki etkisinden söz edilebilir?

- A) Hititlerin tanrıları adına anal denilen yıllıklar oluşturması
B) Friglerde Tanrı Kibele'nin bereketi simgelemesi
C) Urartularda kazanılan zaferlerin tanrı Haldi'ye sunulması
D) Büyük İskender'in tanrı Amon'un oğlu kabul edilmesi
E) Mısır'da firavunların tanrı-kral olarak kabul edilmesi

2. MÖ III. binde Sami kökenli olan Akadların, Suriye'den Fırat Nehri'ni izleyerek Sümer ülkesine doğru yavaş yavaş gerçekleştirdiği harekete Akad Göçü denir.

Bu göç hareketlerinin aşağıdakilerden hangisine ortam hazırlaması beklenir?

- A) Site şehir devletlerinin ortaya çıkmasına
B) İlk kanunların oluşturulmasına
C) Kültürel etkileşimin yaşanmasına
D) Düzenli ordu teşkilatlarının ortaya çıkmasına
E) Hukuk kurallarının katı kurallara dayandırılmasına

3. Hristiyanlığın ilk yılları, puta tapan Roma Devleti'nin ağır baskıları altında geçmiş bu da Hristiyanları büyük şehirlerden kayalık ve gizli alanlara kaçmaya yöneltmiştir.

Buna göre Roma İmparatorluğu ile ilgili olarak aşağıdaki yargılardan hangisine ulaşılabilir?

- A) Diplomatik alanda güçlü yapısını korumuştur.
B) İnanç özgürlüğüne karşı çıkmıştır.
C) Farklı etnik yapıları hâkimiyeti altına almıştır.
D) Hukuk alanında kısas esasını benimsemiştir.
E) Disiplinli ve düzenli bir ordu kurmuştur.

4. İlk Çağ medeniyet alanlarına bakıldığında Mısır'da "nom", Sümerlerde "site", İyon ve Dorlarda "polis" adı verilen şehir devletleri kurulmuştur.

Buna göre Mısır, Sümer, İyon ve Dor uygarlıklarının ortak özelliği aşağıdakilerden hangisidir?

- A) Merkezî otoritenin zayıf olması
B) Siyasi birliğin sağlanması
C) Etnik çeşitliliğin görülmesi
D) Çok tanrılı dine inanılması
E) Ahiret inancının görülmesi

5. İlk Çağ'da hüküm sürmüş devletlerden bazıları farklı ırkları, milletleri ve kültürleri yönetimleri altında birleştirmişlerdir.

Buna göre sözü edilen devletlerin aşağıdaki siyasi yapılardan hangisine sahip olduğu söylenebilir?

- A) Teokrasi
B) Oligarşi
C) Cumhuriyet
D) Aristokrasi
E) İmparatorluk

6. İçerisinde çeşitli etnik unsurları barındıran bir devlet modeli ile ilgili olarak,

- I. Konuşulan dil sayısı fazladır.
II. Kültürel yapı çok çeşitlidir.
III. Farklı milletler varlık göstermiştir.

yargılarından hangilerine ulaşılabilir?

- A) Yalnız III
B) I ve II
C) I ve III
D) II ve III
E) I, II ve III

7. İlk Çağ'da varlık gösteren devletlerde gücün meşruiyet kaynağı tanrısaldır.

Buna göre İlk Çağ devletleri ile ilgili olarak,

- I. Yönetim, dine dayandırılarak güçlendirilmek istenmiştir.
- II. Teokratik yönetim anlayışını terk etmişlerdir.
- III. Tanrılarını insan şeklinde tasvir etmişlerdir.

yargılarından hangilerine ulaşamaz?

- A) Yalnız I B) Yalnız III C) I ve III
D) II ve III E) I, II ve III

8. "İlk Devletlerde Gücün Meşruiyet Kaynağı" adlı konunun işlendiği bir derste öğretmen, öğrencileriyle şu bilgileri paylaşmıştır:

"İlk Çağ Yunan medeniyetinin temellerinin atıldığı Girit Adası'nda halk, soylular ve kral tarafından yönetilirdi."

Bu bilgiden hareketle aşağıdaki yargılardan hangisine ulaşamaz?

- A) Yunan medeniyeti, birçok yönden Girit uygarlığını etkilemiştir.
- B) Yunan medeniyetinde eşitlik anlayışından uzak uygulamalar görülmüştür.
- C) Yunan uygarlığında monarşik yönetim anlayışı benimsenmiştir.
- D) Girit Adası'nda toplum, çeşitli sınıflara ayrılmıştır.
- E) Yunan medeniyeti, Girit Adası'nda ortaya çıkmıştır.

9. İlk Çağ'da Yunan uygarlığında yöneticilerin, din adına söz sahibi olduğu görülmüştür.

Buna göre İlk Çağ'da Yunan uygarlığında aşağıdaki yönetim biçimlerinden hangisinin uygulandığı söylenebilir?

- A) Oligarşi B) Meşrutiyet
C) Teokrasi D) Cumhuriyet
E) Feodalite

10. Büyük İskender, Doğu'nun gizemli dinlerinden etkilenmiş ve Mısır'da Amon-Ra rahipleri tarafından tanrı-kral ilan edilmiştir. Yine Batı Anadolu'da Didim Apollon Tapınağı kâhini tarafından "Zeus'un oğlu" olarak adlandırılmıştır.

Buna göre Büyük İskender ile ilgili olarak aşağıdaki yargılardan hangisine ulaşamaz?

- A) Gücünü meşrulaştırmaya çalışmıştır.
- B) Doğu kültürlerinin etkisinde kalmıştır.
- C) Hükümlerini dinî uygulamalarla güçlendirmeyi amaçlamıştır.
- D) Laik yönetimin ilk uygulamasını ortaya koymuştur.
- E) Yönetimdeki etkinliğini dinî unsurlarla arttırmak istemiştir.

11. Asurlularda kral, zorla başa geçse bile kendinden önceki krallarla bir akrabalık kurma gayreti içine girerdi.

Bu uygulama;

- I. soy anlayışına önem verilmesi,
- II. teokratik yönetim anlayışının benimsenmesi,
- III. farklı etnik grupların yönetime katılması

durumlarından hangileriyle ilişkilendirilebilir?

- A) Yalnız I B) Yalnız II C) Yalnız III
D) I ve II E) II ve III

12. Hamurabi Kanunları'nda "Bir adamın gözünü çıkarmanın gözü çıkarılır." maddesine yer verilmiştir.

Bu madde;

- I. kısas esasının uygulandığı,
- II. dinin, hukuk kurallarını şekillendirdiği,
- III. cezalarda tazminat esasının uygulandığı

durumlarından hangileriyle ilgilidir?

- A) Yalnız I B) Yalnız II C) Yalnız III
D) I ve II E) I, II ve III

1. İlk Çağ'da Mezopotamya'da yaşayan topluluklar yaşanan kıtlıkları önlemek amacıyla artı ürüne ihtiyaç duymuşlardır.

Bu durumun bölgedeki;

- I. sulama kanallarının kurulması,
- II. hayvancılığın geri plana itilmesi,
- III. tahıl depolarının oluşturulması

çalışmalarından hangileriyle aşıldığı söylenebilir?

- A) Yalnız I B) Yalnız II C) Yalnız III
D) I ve III E) I, II ve III

2. Feodal yönetimin hüküm sürdüğü bölgelerde hiç kimse tam anlamıyla hükümrân değildi. Bu yüzden kral, lord ve vassallar arasındaki mücadeleler, Orta Çağ Avrupa'sında uzun süren karışıklıklara neden olmuştur.

Bu gelişmenin sonuçları arasında;

- I. Siyasi yapılar arasında savaşların yaşanması,
- II. Ülke bütünlüğünün sağlanamaması,
- III. Ekonomik faaliyetlerin artması

durumlarından hangilerinin yer alması beklenir?

- A) Yalnız I B) Yalnız II C) Yalnız III
D) I ve II E) I, II ve III

3. Moğol İmparatorluğu'nun merkezî konumundaki İç Asya'da iklim şartları tarım için elverişli değildi.

Bu durumun Moğollarda aşağıdakilerden hangisinin ortaya çıkmasına ortam hazırladığı söylenemez?

- A) Konargöçer bir yaşam tarzının benimsenmesine
- B) Sürekli otlak arayışının yaşanmasına
- C) Hayvancılığın, temel geçim kaynakları arasında yer almasına
- D) Ticari hayatın sönük geçmesine
- E) Sert hukuk kurallarının yapılmasına

4. Aşağıda, Orta Çağ'da; Anadolu, Balkanlar, Mısır, Suriye, Filistin ve Kuzey Afrika coğrafyasında etkili olan Bizans İmparatorluğu ile ilgili harita verilmiştir.



Bu haritadan Bizans İmparatorluğu ile ilgili olarak,

- I. Farklı kıtalarda varlık göstermiştir.
- II. Farklı kültürler iç içe yaşamıştır.
- III. Doğu Akdeniz havzasını hâkimiyeti altına almıştır.

yargılarından hangilerine ulaşılabilir?

- A) Yalnız III B) I ve II C) I ve III
D) II ve III E) I, II ve III

TÜMLER YAYINLARI

5. Moğollarda Büyük Şaman, Temuçin'in Gök Tanrı tarafından seçildiği şeklinde kehanette bulunmuştur. Bu kehanetinde "Temuçin'le çocuklarına dünyanın bütün topraklarını bağışladım ve kendisine Cengiz Han ismini verdim." şeklinde Gök Tanrı'nın kendisine haber verdiğini söylemiştir.

Moğollarla ilgili bu bilgilerden hareketle aşağıdaki yargılardan hangisine ulaşılabilir?

- A) Cengiz Han ve nesli, ilahi soya dayandırılmıştır.
- B) Şamanlar, toplum ve idareciler üzerinde etkili bir güce sahip olmuştur.
- C) Cengiz Han'dan sonra devletin başına geçecek kişilere meşruluk kazandırılmıştır.
- D) Orta Asya'da ilk imparatorluk, Cengiz Han tarafından oluşturulmuştur.
- E) Cengiz Han ve soyu, kutsal bir niteliğe kavuşmuştur.

6. • Moğol ordusu, kendisinden yaklaşık on beş asır önce kurulan Asya Hun Devleti hükümdarı Mete Han'ın geliştirdiği onlu teşkilata uygun olarak on, yüz, bin ve on bin şeklinde bölümlere ayrılmıştır.

- Moğol ordusu hafif süvari birliklerinden oluşmuştur.

Bu bilgilerden Moğollarla ilgili,

- I. Hareket kabiliyetine sahip olup birlikler hâlinde harekete geçmişlerdir.
II. Ordunun sevk ve idaresini kolay yapmayı amaçlamışlardır.
III. Orta Asya'da ilk düzenli ordu teşkilatı özelliğine sahip olmuştur.

yargılarından hangilerine ulaşılabilir?

- A) Yalnız I B) Yalnız II C) Yalnız III
D) I ve II E) II ve III

7. Aşağıda Moğol İmparatorluğu sınırlarını gösteren bir harita verilmiştir.



Bu haritadan Moğollarla ilgili aşağıdaki yargılardan hangisine ulaşılabilir?

- A) Denizcilik alanında komşu devletlere göre daha ileri bir seviyede olmuşlardır.
B) Geniş bir coğrafyada varlık göstermişlerdir.
C) Yaşadıkları dönemde askerî alanda Avrupa'nın gerisinde kalmışlardır.
D) Anadolu'da ticari faaliyetleri geliştirmişlerdir.
E) Teokratik bir yönetim anlayışına sahip olmuşlardır.

8. Aşağıda Sasani Devleti ile ilgili bazı bilgilere yer verilmiştir.

- I. Tarımsal üretim ile ilgilenen gruplar için çeşitli yasalar çıkarmışlardır.
II. Tarihteki ilk eyalet uygulamasını başlatmışlardır.
III. Köprü, liman ve konaklama yeri gibi yapılar inşa etmişlerdir.

Bu bilgilerden hangilerinin Sasanilerin ticari faaliyetleri geliştirmek istediğinin kanıtıdır?

- A) Yalnız II B) Yalnız III C) I ve III
D) II ve III E) I, II ve III

9. **BİLGİ**

Asya Hun Devleti ile ilgili ilk bilgiler MÖ 318 tarihli bir Çin kaynağında yer almıştır. MS 216 yılında tarih sahnesinden çekilen bu devletle ilgili elde edilen bilgilerden biri de Kut (devleti yönetme yetkisinin Gök Tanrı tarafından verildiğine inanılması) inancının kabul edilmesidir.

BİLGİ

1206 yılında düzenlenen bir kurultayda Cengiz Han'ın ve neslinin ilahi soya dayandırılması Şamanlar tarafından sağlanmıştır.

Bu bilgilerden,

- I. Gücün meşruiyet kaynağı dine dayandırılmıştır.
II. Orta Asya devletlerinde devlet yönetiminde benzer uygulamalara yer verilmiştir.
III. Tarihte bilinen teşkilatlı ilk devlet yapısını Asya Hunları oluşturmuştur.

yargılarından hangilerine ulaşılabilir?

- A) Yalnız I B) Yalnız II C) I ve II
D) II ve III E) I, II ve III

10. Fazla ürün yani "artı ürün"ün elde edilmesi ve depolanmasında topluluğun yaşadığı bölgenin;

- I. iklim özelliği,
II. sanat anlayışı,
III. dinî inanç

unsurlarından hangilerinin etkili olduğu söylenebilir?

- A) Yalnız I B) Yalnız III C) I ve III
D) II ve III E) I, II ve III

1. İlk Çağ'da güçlü imparatorluklar ortaya çıkmıştır. Bu güçlü imparatorlukların askerî teşkilata yönelik çalışmaları yaptığı görülmüştür. Bu çalışmalardan biri de ordunun, yeni oluşturulan "piyade birlikleri" ile güçlendirilmesi olmuştur.

Buna göre piyade birliklerin oluşturulmasında, İlk Çağ siyasi yapılarının hangi özelliğinin etkili olduğu söylenebilir?

- A) Yerleşik yaşam tarzına sahip olmaları
B) Hukuk alanında çalışma yapmaları
C) Eğitim ile ilgili faaliyetlerde bulunmaları
D) Çok tanrılı bir inanç sistemini benimsemeleri
E) Çeşitli uygarlıklarla kültürel etkileşime girmeleri

2. **Konargöçer toplumların özellikleri:**

Askerî alanda yerleşik unsurlara göre daha ileri bir seviyededirler. Saldırı gücüne sahip ordular oluşturmuşlardır. Konargöçer yaşama bağlı olarak ihtiyaçlarını karşılamakta yetersiz kalmışlardır. İhtiyaçlarını yerleşik unsurlardan karşılamaya çalışmışlardır. İhtiyaçların karşılanması durumu bazı dönemlerde barış yöntemiyle bazı dönemlerde de askerî faaliyetlerle gerçekleşmiştir.

Yerleşik toplumların özellikleri:

Üretim faaliyetleri ile ihtiyaçlarını karşılamışlardır. Ayrıca üretim alanında konargöçer topluluklardan ileri bir seviyededirler. Savunmaya önem vermişlerdir.

Bu bilgilerden aşağıdaki yargılardan hangisine ulaşamaz?

- A) Konargöçer toplulukların sahip olduğu imkânlar, çevre uygarlıklarla mücadele etmelerine neden olmuştur.
B) Yerleşik unsurlar, tarımsal üretim faaliyetlerinde bulunmuşlardır.
C) Konargöçer topluluklar, sınırlı imkânlara sahip olmuşlardır.
D) Yerleşik unsurların hukuk anlayışı, süvari birliklerinin ortaya çıkmasında etkili olmuştur.
E) Konargöçer topluluklar, askerî alandaki üstünlüklerini, ihtiyaçlarını karşılamak amacıyla kullanmışlardır.

3. Konargöçer topluluklarda ordu, ayağa kalkmış bir halk, yürüyen bir ulustur. Konargöçer topluluklarda kadınlar da zaman zaman savaflara katılmışlardır.

Buna göre konargöçer topluluklarla ilgili aşağıdaki çıkarımlardan hangisine ulaşılabilir?

- A) Askerî alanda onluk sistem kullanılmıştır.
B) Savaflarda hafif silahlarla mücadele edilmiştir.
C) Ordu millet anlayışı benimsenmiştir.
D) İkili teşkilat anlayışı uygulanmıştır.
E) Askerî alanda farklı uygarlıkların etkisinde kalmıştır.

4. İlk Çağ'da varlık gösteren bazı siyasi yapılarda bağımsız ve ücretli hür savaşçı topluluklar yerine krala itaat eden düzenli ve disiplinli ordular kurulmuştur.

Bu bilgilerden aşağıdaki yargılardan hangisine ulaşılabilir?

- A) Merkezî idarenin, askerî teşkilat üzerindeki denetiminin arttığına
B) Ücretli asker uygulamasının İlk Çağ'ın sonlarında sona erdiğine
C) İlk Çağ topluluklarında ordu millet anlayışının benimsendiğine
D) Askerî teşkilat içerisinde yer alan unsurların çeşitlendirildiğine
E) Piyade birliklerden zamanla süvari birliklere geçildiğine

5. • Hayvancılık, temel geçim kaynakları arasında yer alır.
• Yaşamlarını belirli bir bölgede sürdürmemişlerdir.
• Atı, bir savaş unsuru olarak kullanmışlardır.

Bu özelliklere sahip bir topluluk ile ilgili olarak aşağıdaki yargılardan hangisine ulaşamaz?

- A) Temel ihtiyaçlarının karşılanmasında hayvancılık faaliyetleri katkı sağlamıştır.
B) Yerleşik bir yaşam tarzını benimsememişlerdir.
C) Farklı toplulukların etkisi altında kalmışlardır.
D) Askerî teşkilatları içerisinde süvari birlikleri yer almıştır.
E) Hayvanları evcilleştirmişlerdir.

6. Magna Charta'da "Kral, kanunlara uygun hareket edecektir." maddesine yer verilmiştir.

Bu maddeden aşağıdaki yargılardan hangisine ulaşılabilir?

- A) Kanun üstünlüğü esas alınmıştır.
B) Monarşik yönetimler sona ermiştir.
C) Toplumsal alanda laiklik ilkesine önem verilmiştir.
D) Halkın yönetime katılımı amaçlanmıştır.
E) Siyasi alanda birlik sağlanmıştır.

7. Justinianus döneminde, 12 Levha Kanunları ve tüm Roma kanunları bir araya getirilmiş, içinde bulunulan dönem ve toplumun ihtiyaçları doğrultusunda yeniden düzenlenmiştir.

Bu parçaya göre aşağıdaki amaçlardan hangisinin benimsendiği söylenebilir?

- A) Modern kanunlar oluşturmak
B) Laik anlayışa uygun bir hukuk sistemi oluşturmak
C) Kanunları yazılı hâle getirmek
D) Sosyal alanda eşitliği sağlamak
E) Caydırıcılığı yüksek kanunlar oluşturmak

8. Justinianus Kanunları'nda suç ve ceza ile ilgili bilgilerden bazıları şunlardır:

- Suçlu kişiyi arındırma amacının yanında korkutma amacı da vardır.
- Bu kanunlarda hapis cezası uygulamasına yer verilmemiştir.
- Hapis cezası yerine kişinin manastıra kapatılması uygulamasına yer verilmiştir.

Bu bilgilerden aşağıdaki yargılardan hangisine ulaşılabilir?

- A) Justinianus Kanunları'nın, diğer Roma kanunlarına göre daha demokratik olduğu
B) Roma İmparatorluğu'nun monarşi bir anlayışla yönetildiği
C) Justinianus Kanunları'nın, suçluların topluma kazandırılmasını amaçladığı
D) Kişi hak ve özgürlükleri ile ilgili ilk çalışmaların Roma İmparatorluğu döneminde gerçekleştirildiği
E) Sosyal devlet anlayışının Justinianus döneminde daha fazla gelişme gösterdiği

9. Justinianus döneminde hazırlanan kanunlarda aile, kişi ve miras gibi konularla ilgili düzenlemeler yapılmıştır.

Buna göre Justinianus Dönemi'nde aşağıdakilerden hangisiyle ilgili çalışmalar yapıldığı söylenebilir?

- A) Medeni kanun
B) Sosyal yapı
C) Ekonomik yapı
D) Dinî hayat
E) Yönetim biçimi

10. "... borçlu olan kişi, borçlu olduğu kişi tarafından köle olarak satılabilir."

On İki Levha Kanunları'nda yer alan bu maddeden,

- I. Roma İmparatorluğu'nda kişi haklarına önem verilmemiştir.
II. Roma İmparatorluğu hazırladığı On İki Levha Kanunları ile modern Batı toplumlarındaki hukuk sisteminin temelini oluşturmuştur.
III. Roma İmparatorluğu'nda toplum, çeşitli sınıflara ayrılmıştır.
IV. Roma İmparatorluğu'nda eşitlik anlayışından uzak uygulamalar görülmüştür.

yargılarından hangilerine ulaşamaz?

- A) Yalnız I
B) Yalnız II
C) Yalnız IV
D) I ve III
E) II ve IV

11. Patricilerin uygulamalarına karşı çıkan pleplerin ayaklanmaları ile 12 Levha Kanunları oluşturulmuştur. Bu ayaklanmaları bastırmak amacıyla kanunlar ıslah edilerek ilk defa yazılı hâle getirilmiştir. Bu kanunlarla Roma halkının görev ve sorumlulukları, halk arasındaki ilişkiler gibi pek çok konuya açıklık getirilmiştir.

Bu bilgilerden;

- I. sosyal alanda yaşanan sorunların hukuk alanını etkilediği,
II. yapılan hukuk kurallarının çeşitli alanları kapsadığı,
III. yazılı ilk hukuk kurallarının Romalılar tarafından oluşturulduğu

durumlarından hangilerine ulaşılabilir?

- A) Yalnız III
B) I ve II
C) I ve III
D) II ve III
E) I, II ve III

1.



Tahtaya bu görseli yansıtan Arif Öğretmen'in işleyeceği konu aşağıdakilerden hangisidir?

- A) Yaşanılan Coğrafyanın Siyasi Hayata Etkisi
- B) Orta Asya Kültür Merkezleri
- C) İlk Türk Devletlerinde Devlet Yönetimi
- D) Orta Asya Türk Topluluklarının Komşuları ile Olan Ticari İlişkileri
- E) Çin'in Orta Asya'ya yönelik Faaliyetleri

2.

Kaşgarlı Mahmut	Olgunluk Çağı
Çin Kaynakları	Miğfer
Wambery	Türeyen, Çoğalan
Ziya Gökalp	Kanunlu, Nizamlı
Araplar	Terk edilmiş

Buna göre Türk adının tarihin çeşitli dönemlerinde farklı anlamlar kazanmasında;

- I. farklı topluluklarla ilişki kurmaları,
- II. türklerin, kendi alfabelerini oluşturmaları,
- III. yerleşik hayata erken geçmeleri

durumlarından hangilerinin etkili olduğu savunabilir?

- A) Yalnız I
- B) Yalnız II
- C) Yalnız III
- D) I ve II
- E) II ve III

3.

"Atalarımızdan işittiklerimiz Roma İmparatorluğu'nun elçilerinin bu topraklara ayak basması dünyayı fethedeceğimizin göstergesidir."

Kök Türk yöneticilerinden İstemi Yabgu'nun bu sözüne göre, Türklerde aşağıdaki düşüncelerden hangisinin var olduğu söylenebilir?

- A) Kut anlayışı
- B) İkili yönetim
- C) Cihan hâkimiyeti
- D) Sosyal devlet
- E) Teokratik yapı

4.

Mete Han Çin imparatoriçesine yazdığı mektubun bir yerinde kendi hayatının ilk dönemleriyle ilgili olarak şöyle demiştir. "İrmaklar ve göller arasında doğdum, geniş yaylalarda sığırlar ve atlar arasında büyüdüm, kendimi sık sık sınır boylarında buldum."

Bu ifadelerle göre Hunlarla ilgili aşağıdakilerden hangisine ulaşılabilir?

- A) Hayvancılıkla uğraştıkları
- B) Gök Tanrı'ya inandıkları
- C) Yerleşik yaşamı benimsedikleri
- D) Hukuk alanında çalışma yaptıkları
- E) Sanat alanında çalışmalar yaptıkları

5.

Orhun Kitabeleri'nden; "Türk milleti için gece uyumadım, gündüz oturdum ondan sonra Tanrı irade ettiği ve lütfettiği için talih ve kısmetim olduğu için ölecek milleti diriltip kaldırdım, çıplak milleti giydirdim, fakir milleti zengin ettim, nüfusu az milleti çok ettim." ifadeleri geçmektedir.

Bu ifadelerle göre Kök Türkler'de aşağıdakilerden hangisinin varlığından söz edilemez?

- A) Kut anlayışı
- B) Sosyal devlet yapısı
- C) Ulusçuluk düşüncesi
- D) Halk yararının gözetilmesi
- E) Federatif devlet yapısı

6.

Türklerde devleti yönetme yetkisinin kağana, Gök Tengri tarafından verildiğine inanılır.

Buna göre aşağıdaki yargılardan hangisine ulaşılabilir?

- A) Türklerde yönetme gücünün kaynağı ilahi bir özellik taşımıştır.
- B) Türk kağanları, kutsal varlık olarak kabul edilmiştir.
- C) Orta Asya Türk devletlerinde kağan, tanrı-kral kabul edilmiştir.
- D) Türk devlet yönetiminde farklı kültürlerden etkilenmiştir.
- E) Orta Asya Türk devletlerinde düzenli bir veraset anlayışı olmamıştır.

7. Türk tarihinde tam olarak ilk yerleşik yaşama geçen, ilk tarımsal faaliyetleri geliştiren, ilk matbaayı kullanan, ilk kalıcı mimari eserleri veren ve Çin'in etkisine bağlı olarak ilk defa Gök Tanrı inancının dışında başka bir din benimseyen Türk devleti Uygurlardır.

Buna göre Uygurlarla ilgili olarak aşağıdaki yargılardan hangisine ulaşamaz?

- A) Üretim faaliyetlerinde bulunmuşlardır.
B) Kültürel hayatın gelişmesini sağlamışlardır.
C) Farklı toplulukların etkisinde kalmışlardır.
D) Kendisinden önceki Türk topluluklarından ayrılan özelliklere sahip olmuşlardır.
E) Çin'in etkisine bağlı olarak yönetimde ikili teşkilatı benimsemişlerdir.

8. Türk adı;

- Çin kaynaklarına göre "miğfer",
- Kaşgarlı Mahmut'a göre "olgunluk çağı",
- A. Wambery'e (Vambrey) göre "türeyen",
- Ziya Gökalp'a göre "kanun ve nizam sahibi" anlamına gelmektedir.

Bu bilgilerden hareketle,

- I. Türkler, savaçılık özellikleriyle tanınmıştır.
II. Türk adına, farklı araştırmacılar tarafından farklı anlamlar yüklenmiştir.
III. Türk adı ile ilgili en geniş çalışmayı Ziya Gökalp gerçekleştirmiştir.

yargılarından hangilerine ulaşılabilir?

- A) Yalnız II B) Yalnız III C) I ve II
D) I ve III E) II ve III

9. Orta Asya'nın en eski kültür bölgesi olan Anav'da yapılan araştırmalarda seramik kaplar, tuğladan evler, yerleşim bölgelerinin yakınlarında koyun sığır gibi hayvan iskeletlerine rastlanmıştır.

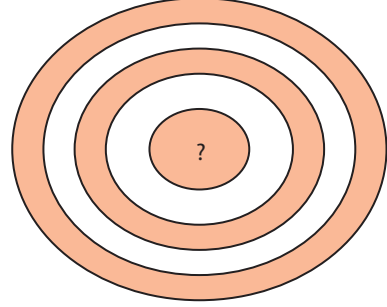
Bu duruma göre Anav bölgesinde yaşayanlarla ilgili;

- I. ateşi kullandıkları,
II. yerleşik yaşama geçtikleri,
III. hayvanları evcilleştirdikleri

çıkartımlarından hangilerine varılabilir?

- A) Yalnız I B) Yalnız II C) Yalnız III
D) I ve II E) I, II ve III

- 10.



"Orta Asya Türk Devletlerinde Sosyal Yapı" Konusunun işlendiği bir derste "?" ile gösterilen yere aşağıdakilerden hangisi yazılmalıdır?

- A) Oğuş B) Urug C) Boy
D) Bodun E) İl

11. Orta Asya Türk devletlerinden Hunlarda Tu-ku, Kök Türklerde Aşına ve Uygurlarda Yağlakâr ailelerine Gök Tanrı tarafından kut verildiğine inanılmıştır.

Orta Asya Türk devletleri ile ilgili bu bilgilerden aşağıdaki yargılardan hangisine ulaşılabilir?

- A) Veraset usulü, ilk kez Hunlarda uygulanmıştır.
B) Teokratik bir hukuk anlayışı benimsenmiştir.
C) Hanedancı bir anlayış benimsenmiştir.
D) Yönetim alanında farklı kültürlerin etkisinde kalmıştır.
E) Türkler, farklı coğrafyalarda varlık göstermiştir.

12. II. Kök Türk Hükümdarı Bilge Kağan'ın, Çinlilerin etkisinde kalarak Budizm'i benimseme isteği, Türklerin yaşam tarzına uymadığı gerekçesiyle kurultay tarafından reddedilmiştir.

Kök Türkler'le ilgili bu bilgilerden aşağıdaki yargılardan hangisine ulaşılabilir?

- A) Yerleşik yaşam tarzı benimsenmiştir.
B) Tarım, Türk devletlerinin ekonomik faaliyetleri arasında yer almıştır.
C) Kök Türkler'in sosyal yaşamı, devletin yönetim biçimini etkilemiştir.
D) Kök Türkler'de, kağan sınırsız yetkilere sahip olmamıştır.
E) Kök Türkler, toplumsal alanda tabakalaşmanın oluşmasını engellemiştir.

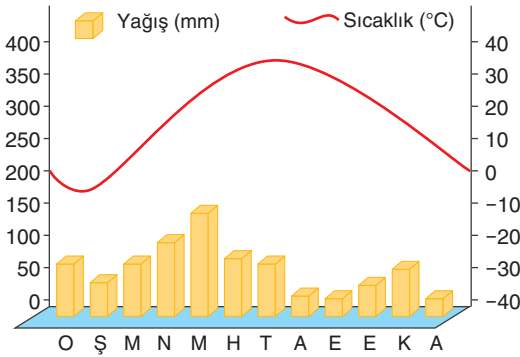
1.



Türklerin Orta Asya göçlerini gösteren bu harita-ya göre, göçler sonrasında hangi bölgeye giden Türk toplulukları daha güçlü ve uzun süreli devletler kurmuşlardır?

- A) İran, Anadolu B) Hindistan, Çin
C) Mısır, Filistin D) Kuzey Sibirya
E) Doğu Avrupa

2.



Orta Asya ile ilgili verilen yağış ve sıcaklık grafiği dikkate alındığında bölgede yaşayan halkların ekonomik faaliyetleri arasında;

- I. küçükbaş hayvancılık,
II. tahıl tarımı,
III. dericilik

alanlarından hangilerinin yer alması beklenir?

- A) Yalnız I B) Yalnız II C) I ve III
D) II ve III E) I, II ve III

3.

Orta Asya'da kıyılarında, çok eski uygarlıkların yerleştiği nehirlerden kuzeyde Yenisey ve Baykal Gölü'nü besleyen zengin sular ile güneyde Sarı Irmak bulunur. Birçok uygarlık bu su kaynakları civarında kurulmuştur.

Orta Asya coğrafyası ile ilgili bu bilgiden hareketle aşağıdaki yargılardan hangisine ulaşılabilir?

- A) Orta Asya'da sert iklim koşullarının yaşandığına
B) Orta Asya'da yer alan coğrafi unsurların yerleşim yerlerinin belirlenmesinde etkili olduğuna
C) Orta Asya'da görülen ekonomik faaliyetlerin, akarsulardan yararlanmayı zorunlu kıldığına
D) Orta Asya'nın yerleşik yaşama uygun bir coğrafya olmadığına
E) Orta Asya'da hayvancılığın zorunlu bir geçim kaynağı olduğuna

4.

Avrasya'da yaşayan bütün Türkler, konargöçer bir hayat tarzı sürdürmemiştir. Türk boylarından bazıları, uygun tarım alanlarında hem tahıl hem de meyve-sebze yetiştirmiştir.

Bu bilgilerden;

- I. Türklerin bir kısmının yerleşik bir yaşam tarzına sahip olduğuna
II. Orta Asya Türklerinin, üretim alanında faaliyetlerde bulunduğuna
III. Orta Asya Türklerinin, farklı topluluklardan uzun bir dönem etkilenmediğine

yargılarından hangilerine ulaşılabilir?

- A) Yalnız II B) I ve II C) I ve III
D) II ve III E) I, II ve III

5.

Türk topluluklarının Orta Asya'dan göç etmesinde;

- nüfusun artması nedeniyle otlakların yetersiz kalması,
- kuraklık, aşırı sıcaklar ve soğuklar,
- ağır kış şartları yüzünden kıtlık yaşanması

etkili olmuştur.

Buna göre Türk topluluklarının Orta Asya'dan göç etmesinde;

- I. siyasi,
II. askerî,
III. ekonomik

alanlardan hangilerinin etkili olduğu söylenemez?

- A) Yalnız I B) Yalnız II C) Yalnız III
D) I ve II E) II ve III

6. Orta Asya Türk devlet ve toplulukları başka milletlerin egemenliğini kabul edip istiklalden mahrum kalmaktansa bölgeyi terk etmeyi ve göç etmeyi tercih etmişlerdir. Bu durum çeşitli topluluklarla karşılaşmalarına neden olmuştur.

Bu bilgiden Orta Asya Türk devlet ve toplulukları ile ilgili olarak çıkarılamayacak yargı aşağıdakilerden hangisidir?

- A) Bağımsız yaşama arzusuna sahip olmuşlardır.
B) Farklı bölgelere göç etmeleri birçok kültürle etkileşime girmelerine ortam hazırlamıştır.
C) Orta Asya'dan yapılan Türk göçleri yazının bulunmasıyla azalma göstermiştir.
D) Geniş bir bölgede varlık göstermişlerdir.
E) Türk kültürünün dışında başka kültürlerle ilgili bilgilerin elde edilmesine katkı sağlamışlardır.

7. İlk Türk devlet ve topluluklarında eli silah tutan herkes asker sayıldığı için ordularında, Hazar Devleti hariç, ücretli asker yer almamıştır.

Buna göre ilk Türk devletleri ile ilgili,

- I. Ordu-millet anlayışını benimsemişlerdir.
II. Ortak özellikler taşımamışlardır.
III. Vatansever bir anlayışla hareket etmişlerdir.

yargılarından hangilerine ulaşılabilir?

- A) Yalnız III B) I ve II C) I ve III
D) II ve III E) I, II ve III

8. Bir Türk icadı olan üzengi, eyerin iki yanında asılı bulunan ve ata binildiğinde ayakların basılmasına yarayan binicinin, at üzerinde dengeli durmasını sağlayan demirden alettir.

Bu parçadan Türklerle ilgili olarak;

- I. madeni işledikleri,
II. atın savaşlardaki etkinliğini azalttıkları,
III. hayvanları evcilleştirdikleri

çıkarmalarından hangilerine ulaşılabilir?

- A) Yalnız I B) Yalnız II C) I ve II
D) I ve III E) II ve III

9. Kavimler Göçü'nün sonuçlarından bazıları şunlardır:

- Roma İmparatorluğu, Doğu ve Batı olmak üzere ikiye ayrılmıştır.
- Avrupa'da Avrupa Hun Devleti kurulmuştur.
- Avrupa'da feodalite güç kazanmıştır.

Bu sonuçlara bakılarak Kavimler Göçü'nün aşağıdaki alanlardan hangisinde daha etkili olduğu söylenebilir?

- A) Siyasi B) Askerî
C) Ekonomik D) Kültürel
E) Dinî

10. Orta Asya'da varlık gösteren ilk Türk devlet ve toplulukları, ekonomik alandaki gelirlerini arttırmak için ticaret yollarına hâkim olmak istemişlerdir. Bu çevre uygarlıklarla mücadele etmelerinde etkili olmuştur.

Buna göre Orta Asya Türk devlet ve topluluklarının;

- I. İpek,
II. Baharat,
III. Kral

ticaret yollarından hangileri için çevre uygarlıklarıyla mücadele etmeleri beklenir?

- A) Yalnız I B) I ve II C) I ve III
D) II ve III E) I, II ve III

11. Orta Asya'da varlık gösteren Türk devletlerinden bazıları Çin'e canlı hayvan ihracatında bulunmuştur.

Bu bilgilere göre Orta Asya Türk devletleri ile ilgili olarak,

- I. Hayvancılık, ekonomik faaliyetleri arasında yer almıştır.
II. Ticari faaliyetlerde bulunmuşlardır.
III. Çin'in baskısına maruz kalmışlardır.

yargılarından hangilerine ulaşamaz?

- A) Yalnız I B) Yalnız II C) Yalnız III
D) I ve II E) I ve III

1 ve 2. soruları parçaya göre cevaplayınız.

1. Bu metin, Resûlullah Muhammed tarafından Kureyşli ve Yesribli Müslümanlar ile bunlara tabi olanlar ve onlarla birlikte cihat edenler için düzenlenmiştir.
13. Allah'tan hakkıyla korkan müminler, birbirlerine saldıranlara, haksızlık yapanlara, bir hakka tecavüz edenlere veya inananlar arasında kargaşa çıkaranlara karşı olacaktır. Bu kimse onlardan birinin çocuğu bile olsa ona ayrıcalık tanınmayacaktır.
16. Yahudilerden, Müslümanlara tabi olanlar, zulme uğramayacaklar ve Müslümanlar aleyhinde iş birliği yapmadıkça yardım ve gözetime hak kazanacaklardır.
22. Bu sözleşmeyi kabul eden, Allah'a ve ahiret gününe inanan bir müminin bir katile yardım ve yataklık etmesi helal değildir. Kim ona yardım ve yataklık ederse bir tazminat ya da taviz kabul edilmeyecektir.
25. Yahudilerin dinleri de Müslümanların dinleri de kendi kendilerindedir! Kim bir başkasına haksızlık eder ya da bir suç işlerse sadece kendine ve aile bireylerine zarar vermiş olacaktır.
33. Kurallara tam olarak uyulacak ve aykırı bir davranışta bulunmayacaktır.
47. Bu belge, haksız bir fiil ya da suç işleyen kişinin cezalandırılmasına engel değildir. Cihat amacıyla evinden çıkan kişi de şehirde kalan kişi de emniyettedir. Ancak haksız bir fiil ya da suç işlenmesi durumu bu korumanın dışındadır. Allah ve Rasûlû, bu maddelere tam bir sadakat ve titizlikle uyan kimselerin yardımcısıdır.

1. Medine Sözleşmesi'ndeki bu maddelere göre,

- I. Bir anayasa niteliğindedir.
- II. Sözleşme sadece Müslümanları kapsamamaktadır.
- III. Kişi hakları güvence altına alınmıştır.

yorumlarından hangileri yapılabilir?

- A) Yalnız I B) Yalnız II C) I ve II
D) II ve III E) I, II ve III

2. Medine Sözleşmesi'nin bu maddelerine göre aşağıdaki ifadelerden hangisi kullanılamaz?

- A) Yahudi hakları gözetilmiştir.
- B) Kolektif cezalar uygulanmıştır.
- C) Fitne hareketleri engellenmeye çalışılmıştır.
- D) Putperestlere karşı düzenlenmiştir.
- E) İnsan hakları önemsenmiştir.

3. İslam öncesi dönemin, Cahiliye Dönemi olarak adlandırılmasında etkili olan neden insanların okuma yazma bilmemesi değildir.

Bu dönemin "Cahiliye Dönemi" olarak adlandırılmasında aşağıdakilerden hangisinin etkisinden söz edilemez?

- A) Bedevi yaşam biçiminin benimsenmesi
- B) Putlara tapılması
- C) Kadınlara kötü davranılması
- D) Halkın bilgisizlik ve gaflet içinde olması
- E) İnsanların ticaretle uğraşması

4. Hz. Osman döneminde ülke sınırlarının genişlemesi üzerine Kur'an-ı Kerim çoğaltılarak çeşitli merkezlere gönderilmiştir.

Bu uygulamanın,

- I. fıkhî ve itikadî mezhep sayısını artırmak,
- II. inancın, kaynağından öğrenilmesini sağlamak,
- III. kültürel etkileşimi engellemek

amaçlarından hangilerine yönelik olduğu söylenebilir?

- A) Yalnız I B) Yalnız II C) Yalnız III
D) I ve II E) II ve III

5. İslamiyet öncesi dönemde Arap Yarımadası'nda Hanîf dinine mensup olanların dışında Araplar putlara tapmıştır. Her kabilenin kendisine ait bir putunun olmasının yanında en büyük putları ise Kâbe'de bulunurdu.

Buna göre İslamiyet öncesi dönemde Arap Yarımadası ve halkı ile ilgili olarak,

- I. Kültürel alanda birlik sağlanmıştır.
- II. Farklı dinî inanışlar görülmüştür.
- III. Kâbe, dinî bir merkez konumuna sahip olmuştur.

yargılarından hangilerine ulaşılabilir?

- A) Yalnız I B) Yalnız III C) I ve III
D) II ve III E) I, II ve III